

lundi

mardi

mercredi

jeudi




vendredi

samedi

dimanche

## Quantités et nombres jusqu'à 10

1 Entoure les cartes qui indiquent combien il y a de mouettes dans le ciel.

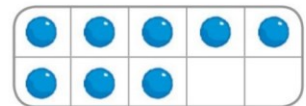



5

6

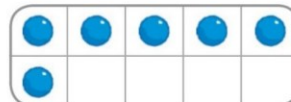
7

2 Entoure les cartes qui indiquent combien il y a de fenêtres sur cet immeuble.



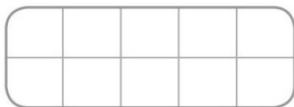
7

8



9

3 Dessine sur la carte autant de points qu'il y a d'enfants dans la ronde.



Écris combien il y a d'enfants dans la ronde.



Écris.

7

8